

HISTORISCHE VERENIGING ALKMAAR

Alkmaar in de klas

4. Bouwen en behouden

Teksten VMBO

Bouwen en behouden - VMBO

Alkmaar groeit als kool. Begin deze eeuw woonden er 93 duizend mensen, bijna 2,5 keer zoveel als vijftig jaar geleden. De stad hoort tegenwoordig bij de dertig grootste steden van Nederland en telt meer inwoners dan Den Helder, Hoorn of Enkhuizen. Op de ranglijst van nationale winkelsteden staat Alkmaar nog hoger: een derde plaats! Na Heerlen en Venlo (in Limburg) heeft Alkmaar het grootste aantal vierkante meters winkelruimte per inwoner.

Het snelst groeide de bevolking van Alkmaar tussen 1970 en 1995. Voor al die nieuwe Alkmaarders moesten huizen worden gebouwd. Soms met hele woonwijken tegelijk. Natuurlijk waren er ook andere dingen nodig: meer winkels, scholen, banen, wegen, sportvelden, ziekenhuisbedden, postkantoren.

Waar komen al die nieuwe Alkmaarders vandaan? En wie zorgt voor al die dingen – wie beslist of ergens een parkeerplaats moet komen of juist een trapveldje? Hebben de bewoners daar zelf iets over te zeggen? Wat is er door de groei van Alkmaar allemaal veranderd in de stad? Welke dingen zijn ongeveer hetzelfde gebleven? Hoe kun je bijna 100 duizend Alkmaarders prettig laten samenleven? Over deze vragen gaat dit lespakket. Het gaat over leven, wonen en besturen in 'de moderne stad' – in dit geval je 'eigen' stad, Alkmaar. Het past bij het hoofdstuk over 'besluiten en besturen' in je geschiedenisboek. Maar het gaat ook over aardrijkskunde en economie: over hoe mensen hun omgeving 'inrichten' en hun brood verdienen.

Het pakket bestaat uit drie onderdelen:

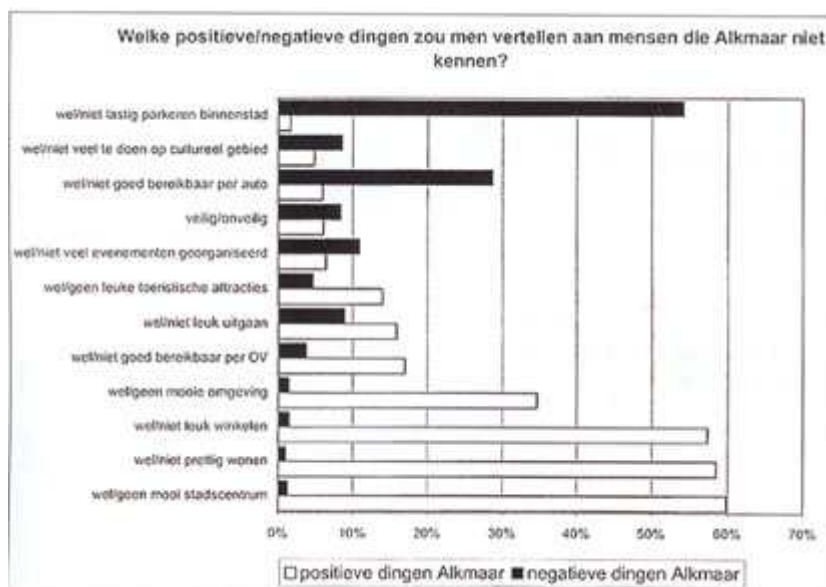
- 1 Alkmaar als woon-, werk- en winkelstad
- 2 Samenleven in de moderne stad
- 3 Kiezen of delen

1. Wonen, werken en winkelen

Is Alkmaar een leuke stad om te wonen? Verreweg de meeste Alkmaarders zeggen van wel. Als pluspunten noemen ze het mooie stadscentrum, 'prettig wonen' en 'leuk winkelen'. Ook 'mooie omgeving' en 'centrum van de regio' worden vaak genoemd.

Minpunten zijn er ook. De meeste mensen vinden parkeren in de binnenstad het grootste probleem. Veel mensen vinden ook dat je met de auto moeilijk in het centrum kunt komen. Op sommige punten zijn de meningen verdeeld. Zo noemt 16 procent van de inwoners 'leuk uitgaan' een goed punt van Alkmaar. Maar tegelijk zegt 9 procent dat 'niet leuk uitgaan' juist een groot nadeel is van Alkmaar!

Hoe weten we dit allemaal? De gemeente Alkmaar laat elk jaar een aantal inwoners een vragenlijst invullen. Over huisvesting, onderwijs, werk, vrije tijd en nog veel meer. In bron 1 zie je de uitslag van dat onderzoek in het jaar 2000.



bron 1

opdracht 1	<i>Gebruik bron 1</i> a Noteer wat volgens de Alkmaarders het beste punt van hun stad is.
	b Noteer wat zij het slechtste punt van de stad vinden.
	c Over welke drie dingen waren de meningen het meest verdeeld? Kijk naar dingen die ongeveer even vaak positief als negatief worden genoemd.

opdracht 2	<i>Gebruik werkblad 1.</i> a Op het werkblad staat de eerste vraag uit het onderzoek van de gemeente. Geef nu zelf antwoord op die vraag. Je moet dus bedenken welke positieve en negatieve dingen jijzelf over Alkmaar zou vertellen aan een 'vreemde'. Maak een top-drie voor de positieve dingen, en een top-drie voor de negatieve dingen. Omcirkel ze met groen en met rood.
	<i>Gebruik werkblad 1 en bron 1</i> b Tel samen met je docent alle groene en rode antwoorden uit de klas bij elkaar op. Vergelijk de uitkomsten met bron 1. Zijn er belangrijke verschillen met de antwoorden van de volwassen Alkmaarders?
	c Vind je dat de gemeente voldoende naar de mening van jongeren vraagt? Leg je antwoord uit.

Een spin in het web

Het gemeentebestuur moet niet alleen rekening houden met de wensen van de Alkmaarders zelf. De stad is ook belangrijk voor het gebied eromheen: de regio Noord-Kennemerland. Als centrum van winkels bijvoorbeeld, van dienstverlening en zorg, van werk en scholing. Bijna de helft van alle leerlingen op de Alkmaarse middelbare scholen bijvoorbeeld komt van buiten de stad. In bron 2 kun je zien hoe dat per school zit.

Leerlingen op dagscholen in het voortgezet onderwijs naar school en plaatsgebied van herkomst, 1 oktober 2000

	Alk maar	Aker sloot	Ber gen	Eg mond	Grab/ de Rijp	Heer hugo waard	Heelo	Lange dijk	Lim men	Scher mer	Sch oorl	West land	Den der	Scha gen
Jan van Scorel College	1035	0	25	10	1	80	17	132	0	29	3	6	1	29
OSG Willem Blaeu	960	1	70	53	7	79	88	65	1	34	52	18	11	10
CSG Jan Arentsz	1176	1	39	9	4	30	42	570	0	36	37	0	0	0
Petrus Canisius College	768	41	156	180	23	96	238	98	70	99	67	20	0	1
Mummelius Gymnasium	249	6	81	18	18	38	72	49	0	19	44	12	3	16
Totaal	4214	49	371	270	53	323	457	914	71	217	203	56	15	53
	<i>procenten</i>													
Jan van Scorel College	73,9	0,0	1,8	0,7	0,1	5,7	1,2	9,4	0,0	2,1	0,2	0,4	0,1	1,9
OSG Willem Blaeu	62,9	0,1	4,5	3,4	0,5	5,1	5,7	4,2	0,1	2,2	3,4	1,2	0,7	0,6
CSG Jan Arentsz	55,8	0,0	1,8	0,4	0,2	1,4	2,0	27,0	0,0	1,7	1,6	0,0	0,0	0,0
Petrus Canisius College	38,9	2,0	7,7	8,8	1,1	4,7	11,7	4,8	3,4	4,9	3,3	1,0	0,0	0,0
Mummelius Gymnasium	35,2	0,8	11,5	2,5	2,5	5,4	10,2	6,9	0,0	2,7	6,2	1,7	0,4	2,3
Totaal	54,1	0,6	4,8	3,4	0,7	4,2	5,8	11,8	0,9	2,8	2,6	0,7	0,2	0,6

Bron: Leerplichtadministratie, afdeling Onderwijs

opdracht 3	<i>Gebruik bron 2</i> a Hoeveel leerlingen op de scholen in Alkmaar komen gemiddeld van buiten de stad?
	b Bekijk in het overzicht de onderste kolom met procenten. Welke school trekt het hoogste percentage Alkmaarders?
	c Welke twee scholen trekken (relatief) de meeste leerlingen van buiten de stad?

opdracht 4	a Alkmaar is een centrum van dienstverlening. Noem drie diensten die je wel in Alkmaar vindt en niet in de meeste omliggende plaatsen in Noord-Kennemerland.
------------	--

Veel veranderd?

Al in de Middeleeuwen was Alkmaar een markt- en handelsplaats. Dat is nog steeds zo: de meeste mensen werken nog steeds in de sector 'winkels, handel en reparatie'. Er werken ook veel mensen in de dienstverlening, de bouw, de horeca, het onderwijs en de gezondheidszorg. Grote bedrijven zijn er bijna niet. Van elke honderd banen zijn er hooguit zeven in de industrie. In de economie van Alkmaar is dus, door de eeuwen heen, veel hetzelfde gebleven.



bron 3 De Gedempte Nieuwesloot omstreeks 2000. Hier is nog wekelijks markt.



bron 4 Winkelcentrum De Mare. Foto's gemaakt omstreeks 2000

Toch is er ook veel veranderd. Vroeger had Alkmaar bijna alleen met de omliggende dorpen te maken. Dat is niet meer zo. Alkmaar hoort bij de *noordelijke Randstad*. Dat is het grote gebied rond Amsterdam, Haarlem en IJmuiden-Velzen (de IJmond). In dat gebied moeten gemeenten steeds vaker met elkaar overleggen: over wonen, werken en verkeer. Het gemeentebestuur van Alkmaar moet dus steeds vaker met andere gemeenten samenwerken.

Een voorbeeld van die samenwerking is die in het zogenaamde HAL-gebied: de gemeenten Heerhugowaard, Alkmaar en Langedijk. In dat gebied moeten tot 2010 nog 13 duizend nieuwe woningen worden gebouwd. De drie HAL-gemeenten werken daarbij samen. Net als bij de vestiging van nieuwe bedrijven en de aanleg van verkeerswegen.

opdracht 5	<i>Gebruik bron 3, 4 en 5</i>
	a Noem twee dingen uit de geschiedenis van Alkmaar die ongeveer hetzelfde zijn gebleven.
	b Noem twee dingen die duidelijk zijn veranderd.
	c Wat is het HAL-gebied
	d Leg met een voorbeeld uit waarom het voor Alkmaar handig kan zijn om samen te werken in het HAL-gebied.



bron 5



opdracht 6	Gebruik werkblad 2
	Maak op je werkblad twee kolommen. Schrijf boven kolom 1 'ongeveer hetzelfde gebleven' en boven kolom 2 'duidelijke verandering'. Zet onderstaande woorden in de juiste kolom: kaasmarkt / agrarische omgeving / bedrijvenpark / winkelcentrum / handel / ambacht / flatwijk / veemarkt / supermarkt / HAL-gebied.

2. Samenleven in de moderne stad

Na 1945 was er in Alkmaar een groot tekort aan woningen. Er moesten snel nieuwe huizen komen. Maar zo kort na de Tweede Wereldoorlog was er niet veel geld. Bouwen moest dus snel en goedkoop.



bron 6 Stukje uit de strip "Van nul tot nu". De geschiedenis van het dagelijks leven.

Nieuwe huizen, nieuwe gezichten

Eerst werden vooral flatwoningen gebouwd. In de jaren vijftig en zestig ontstonden zo de eerste nieuwe wijken aan de rand van de stad: Kooimeer, de Oudorperpolder en De Hoef. Je herkent die naoorlogse flatwijken aan de rechte, eentonige woonblokken.

De nieuwe woningen waren niet alleen voor de Alkmaarders zelf. Er kwamen nieuwkomers bij. Vanaf 1960 trokken de eerste 'gastarbeiders' uit Italië en Spanje naar Alkmaar. In de jaren zeventig volgden Turkse en Marokkaanse werknemers. De buitenlandse arbeiders werkten meestal in het IJmondgebied, bij de Hoogovens (nu Corus) en andere industrieën. In het begin woonden ze bij elkaar in pensions. Later kwamen hun gezinnen over. Veel buitenlandse gezinnen gingen wonen in de naoorlogse flatwijken.

Alkmaar, een groeigemeente

De grootste groep nieuwkomers kwam na 1975 van veel dichterbij: uit de regio Amsterdam en IJmond. Hoe zit dat? In de Randstad werd het vanaf de jaren zestig steeds voller. Vooral de grote steden waren helemaal volgebouwd. De regering wilde daar iets aan doen. Overal in Nederland werden gemeenten aangewezen als 'groeigemeente'. Zij moesten de overloop uit de randstad opvangen. Ook Alkmaar werd zo'n groeigemeente. Tussen 1975 en 2005 moesten er 15 duizend extra woningen komen. Als die af zijn, zal de stad 120 duizend inwoners tellen.

In Alkmaar-Noord kwamen na 1975 grote nieuwe wijken als Huiswaard 2, De Horn en Daalmeer. De ideeën over modern wonen waren intussen veranderd. Geen flats meer, maar eengezinswoningen. Die zijn vooral in trek bij gezinnen met jonge kinderen die uit de drukke Randstad weg willen.

bron 7 de Oudorperpolder



bron 8 Huiswaard II



In Alkmaar wonen tegenwoordig mensen uit allerlei landen en culturen. Een op de vijf Alkmaarders heeft ouders die in het buitenland zijn geboren. Meestal in Turkije, Marokko, Suriname en de Antillen – maar ook wel in Afghanistan, Somalië, Vietnam, Iran, Chili, Indonesië...in totaal meer dan 25 nationaliteiten.

opdracht 1	a Noem drie groepen nieuwkomers die de afgelopen vijftig jaar in Alkmaar kwamen wonen.
	b Wat was de grootste groep nieuwkomers?

opdracht 2	a Bedenk waarom in Nederland veel mensen uit Suriname en De Antillen zijn.
	b Zoek in je geschiedenisboek op wanneer de emigratie uit Suriname het hoogst was. Wat was daar de oorzaak van?
	Onderaan de tekst worden immigranten uit allerlei verschillende landen genoemd. Toch kun je die ook als één groep zien. c Wat hebben de nieuwkomers uit deze landen gemeenschappelijk?
	d Stel: in het buitenland vraagt iemand je naar de geschiedenis van Alkmaar. Je hebt alleen een moderne plattegrond bij je. Bedenk drie dingen (uit de geschiedenis) die je met behulp van zo'n kaart goed kunt uitleggen.

opdracht 3	a Maak een tijdbalk van 1945 tot 2000. Zet de vijf groepen nieuwkomers (opdracht 1 en 2) op de goede plaats boven de tijdbalk. Geef de tijdbalk verschillende kleuren die volgens jou het best bij de vijf groepen passen.
	b Vergelijk je tijdbalk met die van je medeleerlingen. Als er verschillen zijn, zoek dan uit hoe dat komt (overleg!). Noteer je conclusie in een paar regels.

opdracht 4	<i>Gebruik bron 6,7 en 8.</i> a Welke wijk werd volgens jou in de jaren vijftig-zestig gebouwd? Leg je keuze uit.
	b Welke wijk werd in de jaren tachtig gebouwd? Leg je keuze uit.
	c Volgens de jongen uit de strip zijn flatwijken buurten waar je snel verdwaalt. Leg uit wat hij daarmee bedoelt.
	d In welke wijk kwamen de meeste buitenlandse nieuwkomers terecht?

Stadsuitbreiding - iedereen blij?

In de jaren zestig was Alkmaar al behoorlijk volgebouwd. Toch bleven de nieuwkomers toestromen. In de stad zelf was er te weinig grond om voor al die mensen nieuwe huizen te bouwen.

Om nieuwe wijken te kunnen bouwen, wilde Alkmaar grond kopen van Heiloo, Bergen, Oudorp, Koedijk en Sint Pancras. In de dorpen was veel protest. Jarenlang werd er actiegevoerd.

In 1972 hakte de regering in Den Haag de knoop door. Alkmaar mocht het grondgebied van Oudorp, Koedijk en een deel van Sint-Pancras bij de stad trekken. Zo kreeg de gemeente er op 1 oktober 1972 opeens 9000 inwoners bij - die daar zelf niet om hadden gevraagd.



bron 10

Pamfletten van actievoerders tegen de Alkmaarse uitbreidingsplannen.. Foto uit 1969.

bron 9 Bewoners uit Koedijk en Sint Pancras voeren actie tegen de Alkmaarse plannen voorstads uitbreiding. Foto uit 1969

opdracht 5	a Waarom wilde Alkmaar uitbreiding van zijn grondgebied?
	b Bedenk waarom uit de dorpen protest kwam tegen de Alkmaarse plannen.
	<i>Gebruik bron 9.</i> c Lees het spandoek. Welke 'ruil' stelde Alkmaar kennelijk aan Sint Pancras voor?
	d Ben jij het met de makers van dit spandoek eens? Leg je antwoord uit.

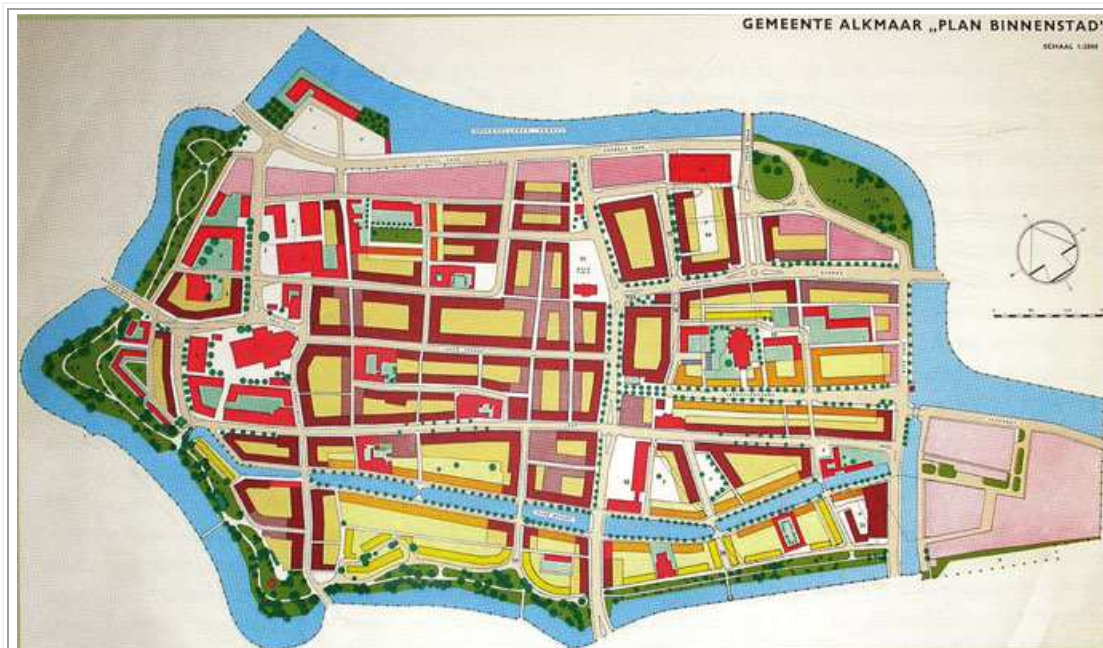
opdracht 6	<i>Gebruik bron 5, 9 en 10.</i> a Kun je op de kaart (bron 5) zien wat het oude en het nieuwe deel van Sint Pancras is? Leg je antwoord uit.
	b Bij Koedijk is op deze kaart nog geen nieuwe bebouwing te zien. Denk je dat dit zo blijft? (Vraag in de klas eens na of iemand weet hoe dat zit!)
	c Bedenk waarom de bewoners van Koedijk liever zelfstandig wilden blijven.
	d Met wie ben jij het (het meest) eens: met Alkmaar dat extra grond nodig had, of met de dorpsbewoners die hun dorp wilden beschermen? Leg je keuze uit.
	e Het besluit over uitbreiding werd uiteindelijk door de regering in Den Haag genomen. Niet door het lokale bestuur. Bedenk waarom dat zo geregeld is.

Slopen of herstellen?

Het centrum van Alkmaar, zonder grachten. Een grote verkeersweg dwars door de stad. Kantoren in plaats van oude gevels. Zo kan de stad het best worden aangepast aan de moderne tijd. Tenminste, dat vond het stadsbestuur na de Tweede Wereldoorlog. Bij een moderne, snel groeiende gemeente paste geen oude, vervallen binnenstad.

De binnenstad van Alkmaar was er omstreeks 1950 niet best aan toe. Veel huizen waren verwaarloosd en bouwvallig. Grote stukken van het centrum kon je maar beter slopen, vond de gemeente. Dan zou er ook ruimte komen voor het moderne autoverkeer. Volgens het 'Herstelplan' uit 1958 moesten daarom bijna alle grachten worden gedempt. Dwars door de stad moesten twee grote verkeerswegen komen.

Veel Alkmaarders waren kwaad over het plan van de gemeente. Zij vonden dat de historische binnenstad vol monumenten en huizen uit de 17de en 18de eeuw bewaard moest blijven. Door de protesten- en doordat het plan veel te duur was - moest de gemeente haar plan een paar keer veranderen. De uitvoering begon pas eind jaren zeventig.



bron 11

Herstelplan voor de Alkmaarse binenstad uit 1958. In dit plan worden bijna alle grachten gedempt. Ten zuiden van de Friesebrug komt een groot verkeersplein.

Ondertussen waren veel Nederlanders anders gaan denken over de waarde de oude binnensteden. Er kwam meer aandacht voor herstel, restauratie en behoud van mooie oude huizen en gebouwen. Gelukkig maar. Tegenwoordig trekt het historische stadscentrum van Alkmaar veel toeristen. En in 1988 riep de regering in Den Haag de Alkmaarse binnenstad uit tot 'beschermd stadsgezicht'.

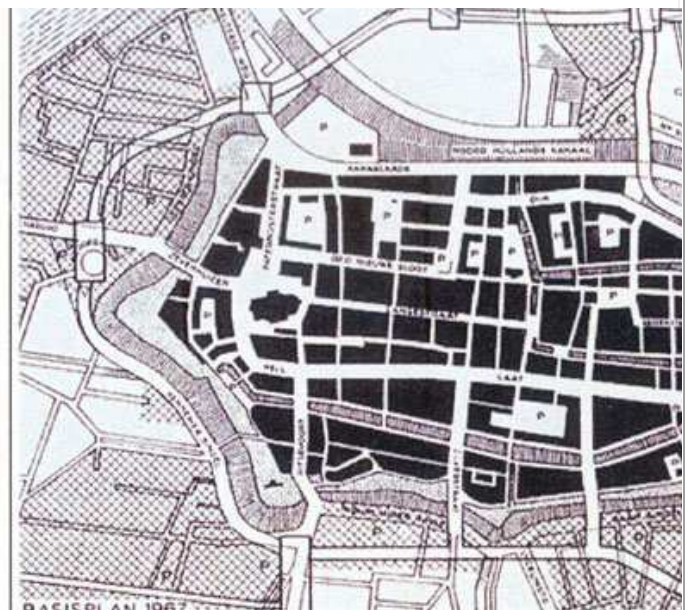
opdracht 7	<i>Gebruik bron 11</i> a Hoe wilde het gemeentebestuur het oude stadscentrum in 1958 aanpassen aan de moderne tijd?
	b Waarom waren veel bewoners van de binnenstad het daar niet mee eens?
	<i>Gebruik bron 12.</i> c In 1967 kwam er een nieuw plan. Is dit plan uitgevoerd? Leg je antwoord uit.

bron 12

Herstelplan voor de Alkmaarse binnenstad uit 1976. Het dempen van de grachten is van de baan. Nieuw is dat de gemeente de Spoorbuurt (ten noordwesten van de binnenstad) wil slopen om er hoge kantoorflats te bouwen.



bron 13 de Spoorbuurt ca 1970



opdracht 8	In 1988 riep de regering in Den Haag de Alkmaarse binnenstad uit tot 'beschermd stadsgezicht'. a Bedenk wat bedoeld wordt met 'beschermd stadsgezicht'.
	b Bedenk waarom het uitroepen tot beschermd stadsgezicht een zaak is van de regering in den Haag en niet van de gemeenten zelf.

opdracht 9	<i>Gebruik bron 12 en 13</i> a Bekijk het 'Herstelplan' uit 1967. Waar protesteerden de bewoners van de Spoorbuurt waarschijnlijk tegen?
	<i>Gebruik bron 14 en 15.</i> b Bedenk een reden om dit soort gebouwen op te knappen in plaats van af te breken.>
	c Tussen 1945 en 1960 vonden veel mensen het behouden van oude huizen minder belangrijk dan tegenwoordig. Bedenk daar een reden voor. Gebruik in je antwoord het begrip 'welvaart'.



Bron 14a en 14b

Herstel in plaats van sloop.

Een historisch pand aan de Bierkade, voor en na een flinke opknopbeurt



bron 15 Een van de oudste huizen staat aan de Kanisstraat 1, achter de Grote Kerk. Na de restauratie door Bureau Monumentenzorg ziet de gevel er weer bijna zo uit als in 1540.

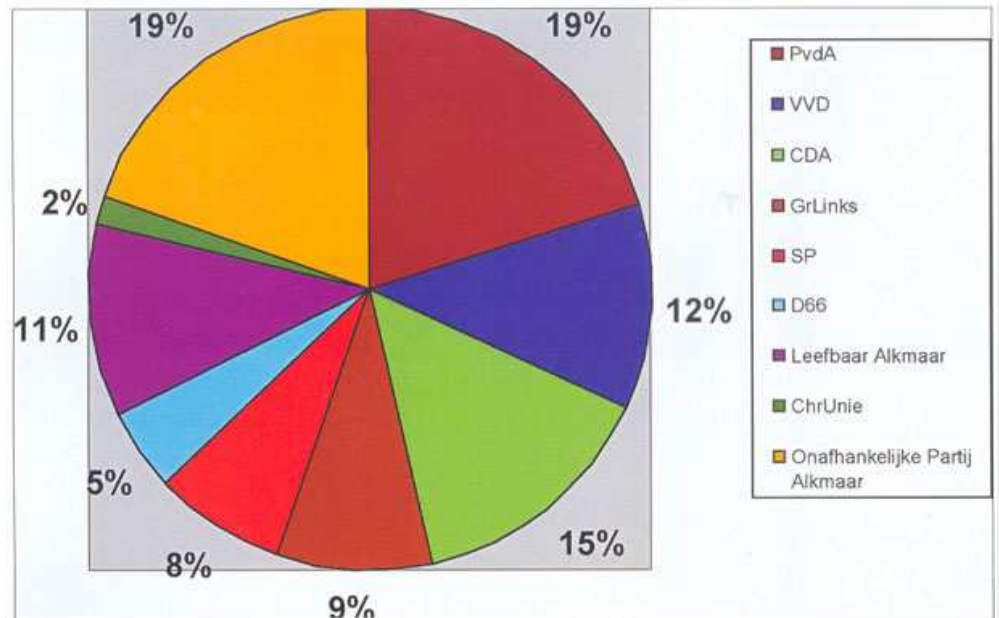
3. Kiezen of delen

Wat zie jij het liefst aan de overkant van je straat: een drukke verkeersweg of een park waar je kunt voetballen of in het gras kunt liggen? Een parkeergarage of een disco? Waarschijnlijk is de keus voor jou niet zo moeilijk. Voor een winkelier in de binnenstad trouwens ook niet. Die heeft het liefst een parkeergarage. Want zonder parkeerplaatsen blijven zijn klanten weg en kan hij zijn handel wel sluiten.

In een stad zijn parken en parkeergarages nodig. En scholen, verkeerswegen, kinderspeelplaatsen, bejaardenwoningen... Maar niet overal is geld en ruimte voor. Niet alle problemen kunnen in één keer worden opgelost. Wie beslist nu wat voorrang moet krijgen? Uiteindelijk is dat de gemeenteraad. Die wordt om de vier jaar door alle volwassen Alkmaarders samen gekozen. Zo beslissen de inwoners indirect mee over de inrichting van hun stad. Ook jij mag straks (als je 18 bent) je stem uitbrengen.

bron 16

Uitslag van de gemeenteraadsverkiezingen van 2002.
De opkomst was 57,7 %



opdracht 1	<p><i>Gebruik bron 16</i></p> <p>De gemeenteraad van Alkmaar telt 37 leden. Zij horen bij verschillende politieke partijen. Hoe meer stemmen een partij weet te krijgen, hoe meer leden (zetels) zij in de raad heeft.</p> <p>a Welke partij kreeg in 2002 de meeste stemmen?</p>
	<p>b De opkomst was 57,7 procent. Bij de Tweede Kamerverkiezingen was de opkomst veel hoger. Bedenk daar een reden voor.</p>

Meepraten in de wijk

Kan je nu alleen maar via je stembiljet invloed uitoefenen op wat er in je straat of buurt gebeurt? Of zijn er nog andere manieren? Jazeker. Je kunt actie voeren, net als de bewoners van de binnenstad in de jaren zestig. Je kunt brieven schrijven of e-mails sturen aan de gemeenteraadsleden. Je kunt in de buurt handtekeningen verzamelen. Je kunt de krant of de lokale TV uitnodigen: misschien dat die aandacht besteden aan jouw actiepunten.

Soms vraagt de gemeente de bewoners meteen al hun mening over een plan. Voorkomen is beter dan genezen!

Doordat Alkmaar tegenwoordig zo groot is, is het moeilijk om alles centraal vanuit het stadhuis te regelen. Om die reden worden sommige taken van de gemeente nu uitgevoerd in de wijken. Bijvoorbeeld het onderhoud van de straat, de buurtveiligheid en het jongeren- en welzijnswerk. Je noemt dat *decentralisatie*.

Alkmaar is opgedeeld in acht wijken. Elke wijk is weer onderverdeeld in vijf tot tien buurten. Elke wijk heeft tegenwoordig een 'eigen' wijkagent, een wijkmeester en soms ook een wijkraad van bewoners.

opdracht 2	<p><i>Gebruik werkblad 3</i></p> <p>Weet je inmiddels de weg in de Alkmaarse stadswijken?</p> <p>a Kleur op de plattegrond de buurt waar je school staat groen.</p>
	<p>b Kleur de buurt waar je woont rood. Woon je buiten de stad, zet dan een rode pijl naar je woonplaats vanuit de dichtstbijzijnde Alkmaarse buurt.</p>
	<p>c Kleur de wijken waar je af en toe wel komt (of doorheen fietst), geel</p>
	<p>d Bekijk de kaart. Hoe groot is het deel van Alkmaar waar je min of meer bekend bent?</p>

opdracht 3	<p>Bedenk twee dingen waarover jij zou willen meepraten: een over de wijk waar je school staat, en een over de wijk of plaats waar je woont.</p>
------------	--

Kiezen of delen?

Alle inwoners van de stad hebben dezelfde rechten. Maar niet alle inwoners hebben dezelfde belangen. De één wil een groot kantoor bouwen, liefst aan de rand van de stad. Dan is het goed bereikbaar met de auto. Maar de ander wil niet dat daarvoor zijn huis wordt gesloopt. Of dat er een nieuwe weg langs zijn achtertuin komt. Niet iedereen kan altijd zijn zin krijgen. Daarom moet de gemeente steeds verschillende belangen tegen elkaar afwegen. Welk belang moet voorrang krijgen? Het afwegen van belangen: dat is waar het om draait bij besluiten en besturen – in de politiek dus.

Elke politieke partij heeft een mening over welk belang het zwaarst moet wegen. In een democratie beslist de meerderheid. Als het goed is, komen de meeste politieke besluiten dus tegemoet aan de belangen van de grootste groep(en) mensen. Maar heeft de meerderheid ook altijd gelijk? Soms blijkt achteraf dat een besluit niet zo verstandig was. Want ook de belangen van mensen kunnen in de loop van de tijd veranderen. Dat hebben we gezien bij de paragraaf over het herstel van de binnenstad.

Discoplan in strijd met gestelde afspraken oudorperpolder

ALKMAAR - De komst van een nieuwe discotheek in de omgeving van de Oudorperpolder is in strijd met alle gemeentelijke beloftes van een aantal jaar eerder. Dit blijkt uit het gemeentelijk beheer- en inrichtingsplan voor het gebied, dat is vastgesteld voor de periode 1998-2002. Gemeente Alkmaar ziet een groenstrook, die grenst aan de rustieke polder, als voornaamste locatie voor realisering van een nieuwe discotheek.

Alkmaar is naarstig op zoek naar een goede locatie voor een megadiscotheek. Uit onderzoek is gebleken dat onder jongeren een grote vraag bestaat naar meer dansgelegenheid in de stad. Bovendien zouden de mogelijkheden voor het uitgaanspubliek in de nachtelijke uren (na 02.00 uur) te beperkt zijn.

Momenteel zijn er twee discotheeken die na sluitingstijd van de kroegen hun deuren geopend hebben.

De gemeente heeft haar oog laten vallen op het gebied naast zwembad Hoornse vaart, dat grenst aan de Oudorperpolder.

Haaks

De groenstrook naast zwembad Hoornse Vaart voldoet volgens het onderzoek aan het gehele eisenpakket. De komst van een discotheek naar het gebied zou echter wel haaks staan op enkele gemaakte afspraken voor de nabijgelegen Oudorperpolder. Drie jaar geleden heeft gemeente Alkmaar afgesproken zich maximaal in te zetten voor behoud van het rustieke karakter van de polder. Cultuurhistorie, archeologische waarde, landelijk karakter en rust zijn daarbij de belangrijkste doelstellingen.

Buurtbewoners

Buurtbewoners reageren verontwaardigd op de mogelijke komst van een megadiscotheek in de buurt van hun Oudorperpolder. Zij zijn drie jaar geleden tenslotte betrokken geweest bij het vastgestelde plan voor het natuurgebied. "Alle besluiten worden ineens van tafel geveegd. Er is hier sprake van misselijkmakend machtsmisbruik", aldus een woordvoerder van de bewoners.

Bron 17 Artikel uit het Alkmaars Nieuwsblad, februari 2002

opdracht 4	<i>Gebruik bron 17</i> <i>a</i> Dit artikel gaat over de belangen van twee verschillende groepen Alkmaarders. Om welke twee groepen gaat het?
	<i>b</i> Wat verwijten de bewoners van de Oudorperpolder het gemeentebestuur?>
	<i>c</i> Vind je dat verwijt terecht? Leg je antwoord uit.